

9.2 Turistický potenciál regionů

Pracovní list č. 2

1. Zjistěte, zda jsou uvedená tvrzení pravdivá nebo nepravdivá:

- a. CzechTourism je státní příspěvkovou organizací Ministerstva pro místní rozvoj České republiky.
- b. Česká republika se člení na 10 turistických regionů.
- c. Historické jádro Prahy je zapsáno na Seznam světového kulturního a přírodního dědictví UNESCO.

2. Doplňte neúplný text:

- a. Česká republika má _____ památek zapsaných na Seznamu světového kulturního a přírodního dědictví UNESCO.
- b. Nikde v České republice se nenachází taková koncentrace zachovalých dřevěných staveb – kostelů, kaplí a zvoníčků, jako v _____.
- c. Turistická oblast Znojemska a Podolí je součástí turistického regionu _____.
- d. Region Šumava je také nazýván Zelenou _____ Evropy.
- e. Zajímavostí města Štramberk je sladké pečivo zvané Štramberské _____.

3. Najděte chyby v předloženém textu:

- a. Cestovní ruch nevytváří pracovní příležitosti.
- b. Lednicko–valtický areál není zapsán na Seznamu světového dědictví UNESCO.
- c. V roce 2010 vešlo v platnost nové členění České republiky na turistické regiony.
- d. Mezi turistickými regiony České republiky je také turistický region Jihozápadní Čechy a Posázaví.
- e. Některé turistické regiony se člení na menší území, na tzv. turistické oblasti.

4. Proč bychom měli navštívit váš turistický region?

5. Napište 3 argumenty, proč je dobré znát svůj region.

6. Jak lze dělit kulturní památky?

7. Jaký je rozdíl mezi zápisem na Seznam světového kulturního a přírodního dědictví UNESCO a zápisem mezi národní kulturní památky?

8. Úkoly na turistický region Střední Čechy:

Doplňte:

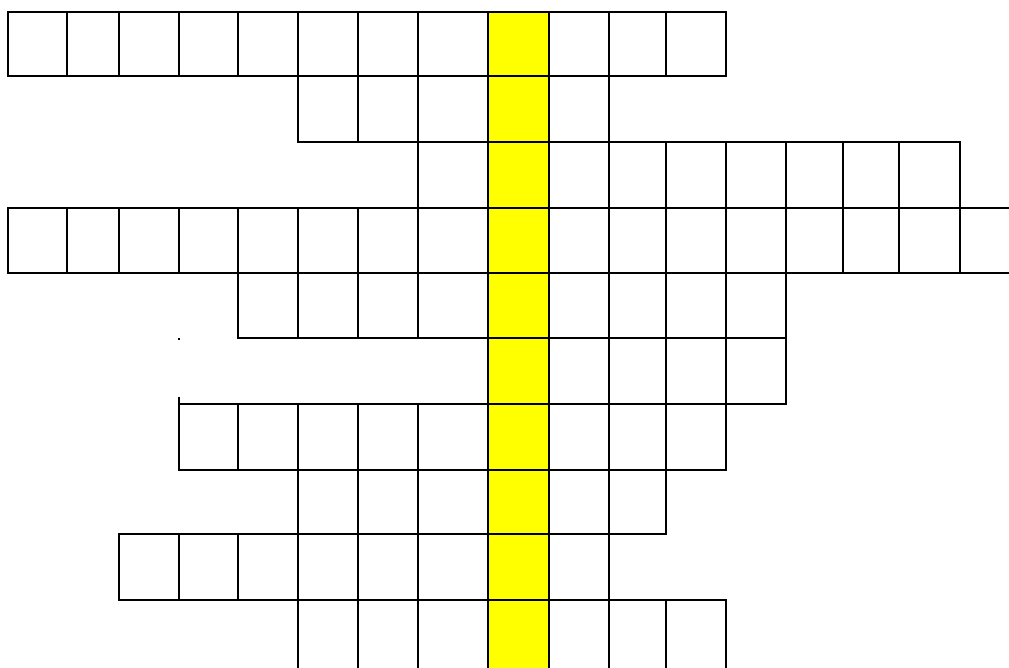
- 1) Nejvýznamnějším městem těžby stříbra, které je zároveň památkou světového dědictví UNESCO, je.....
- 2) Na západ od Prahy se nachází nejznámější český hrad....., který nechal vystavět Karel IV.
- 3) Jmenujte nejméně tři další významné hrady tomto regionu, jejichž název začíná na písmeno K.....

Osmisměrka:

V osmisměrce je deset pojmů Středních Čech (města, hrady). Najděte je.

K	M	Ě	L	N	Í	K	K	O	R	Ú	O
L	O	S	T	R	M	Ě	O	N	J	Z	K
A	P	N	Z	F	G	W	K	Z	S	M	O
D	K	N	O	Č	L	X	O	Á	B	V	Ř
N	P	V	F	P	D	R	Ř	T	É	R	G
O	Ř	L	K	Ř	I	V	O	K	L	Á	T
D	Í	Y	U	P	X	Š	N	I	L	L	H
I	B	C	Š	D	J	Z	T	A	B	X	T
Q	R	B	E	R	O	U	N	Ě	I	M	Z
K	A	R	L	Š	T	E	J	N	Q	F	J
O	M	R	A	Z	N	Y	M	B	U	R	K
L	W	G	K	O	L	Í	N	T	P	B	C

9. Tajenka na turistický region Jižní Čechy:



1. Renesanční zámek filmové Zlatovlásky.
2. Město na řece Lužnici, spojené s husitským hnutím.
3. Město, někdy přezdíváné „malá Telč“, v okrese Jindřichův Hradec ve východní části Jihočeského kraje.
4. Romantický zámek nedaleko Českých Budějovic, připomínající windsorskou Anglii.
5. Mohutný hrad s románským jádrem, nachází se v Jihočeském kraji kousek od města Nová Bystřice.
6. Zámek, který se tyčí na skále nad vodou jezera stejnojmenné přehrady.
7. Jeskyně nedaleko Tábora.
8. Zámek ležící ve městě, kde byla vynalezena kostka cukru.
9. Město, které se nachází v okrese Strakonice. Pojmenované po známém náboženském reformátorovi Petru Chelčickém.
10. Obec v Jihočeském kraji, která je známá především tím, že na jejím území je umístěna jaderná elektrárna.

10. Úkoly na turistický region Šumava:

Vytvořte správné dvojice

- | | |
|--------------------|----------------|
| 1. Lipno | a) kanál |
| 2. Čertova | b) rašeliniště |
| 3. Vydra | c) jezero |
| 4. Modrava | d) přehrada |
| 5. Plešné | e) stěna |
| 6. Schwarzenberský | f) řeka |

Vyberte správný název hradu, který je na obrázku:

- a) Velhartice
- b) Švihov
- c) Kašperk



11. Úkoly na turistický region Plzeňsko a Český les:



Vyberte, kdo je na obrázku:

- a) Juraj Jánošík
- b) Jan Žižka
- c) Jan Sladký Kozina

Vytvořte správné dvojice:

- | | |
|---------------------|-----------------------|
| 1. Plzeňské | a) Týnice |
| 2. Zámek | b) koláče |
| 3. Český | c) Polžic a Bezdružic |
| 4. Mariánská | d) les |
| 5. Bělá nad | e) pivo |
| 6. Chodské | f) Radbuzou |
| 7. Kryštof Harant z | g) Manětín |

12. Úkoly na turistický region Západočeské lázně:

O čem se píše?

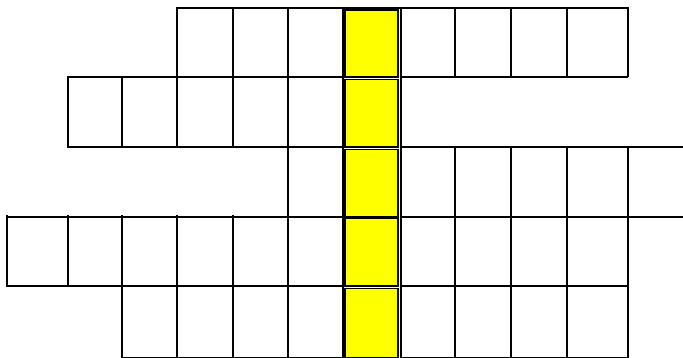
A)

Toto město leží v západní části České republiky na soutoku řek Teplé a Ohře, přibližně 120 km od Prahy. Je to největší a neznámější lázeňské město ČR. Koná se zde jedna z nejoblíbenějších společenských událostí a tou je Mezinárodní filmový festival.

B)


Tyto lázně byly založeny v r. 1793 a patří k nejmladším lázním regionu. Je zde 21 minerálních pramenů. Zdejší studené minerální prameny jsou tzv. kyselky. Symbolem je soška malého chlapce s rybou sedícího na kouli.

Tajenka:



- 1) Uskupení 11 kupeckých domů ze středověku, které se nachází v Chebu.
- 2) Největší, nejsilnější a nejteplejší minerální pramen v Karlových Varech.
- 3) Symbol Karlových Varů.
- 4) Karlovy Vary, Mariánské Lázně a Františkovy Lázně tvoří lázeňský...
- 5) Symbol Františkových Lázní je chlapec s rybou sedící na kouli. Jak se jmenuje?

13. Úkoly na turistický region Severozápadní Čechy:



1. Sněžník, vrchol se stejnojmennou rozhlednou u Děčína.
2. Zámek v oblasti Mostecké pánve.
3. Romantický barokní zámek nacházející se ve stejnojmenné obci, který nechala postavit vévodkyně Anna Marie Toskánská.
4. Nejnižše položená obec České republiky nacházející se na soutoku řek Labe a Kamenice.
5. Středohoří.
6. Největřnější hora České republiky.
7. hora je nejstarší rozhledna ve Šluknovském výběžku. Je pojmenována podle psovité šelmy žijící v lese.
8. Zámek, v němž pracoval jako knihovník Giacomo Casanova, který zde i zemřel.
9. Nejseverněji položená rozhledna v České republice.
10. Místo, „proslavené“ během 2. světové války, kdy sloužilo jako židovské ghetto.
11. Město s autodromem, ale i významným kostelem Nanebevzetí Panny Marie, který byl přesunut v roce 1975 o 842 metrů.
12. Město, jež se stalo snad nejstarším nalezištěm cínu ve střední Evropě.
13.hora – vrchol s rozhlednou, která se jmenuje podle jehličnatých stromů, jež rostly všude okolo.

Co je na obrázku?

- a) Divoká soutěska
- b) Pravčická brána
- c) Jetřichovické skály



Osmisměrka:

Pravčická brána, Mezní louka, Divoká soutěska,
Křínice, Kamenice, Šaunštejn, Hřensko, skály

s	o	u	t	ě	s	k	a	n	p
č	e	l	o	u	k	a	s	k	é
š	y	l	á	k	s	m	v	ý	á
š	a	u	n	š	t	e	j	n	k
c	n	a	h	ř	e	n	s	k	o
r	á	k	ř	i	n	i	c	e	v
p	r	a	v	č	i	c	k	á	i
s	b	k	í	n	z	e	m	o	d

14. Úkol na turistický region Českolipsko a Jizerské hory:

Vytvořte správné dvojice:

- | | |
|----------------|--------------|
| 1. Libverda | a) splavy |
| 2. Kočičí | b) hory |
| 3. Lužické | c) město |
| 4. Bezděz | d) jeskyně |
| 5. Máchovo | e) kameny |
| 6. Staré | f) důl |
| 7. Braniborská | g) jezero |
| 8. Štěpánka | h) rozhledna |
| 9. Liberec | ch) hrad |
| 10. Josefův | i) lázně |

Na kterém z obrázků je hora Ještěd?

A)



B)



15. Úkol na turistický region Krkonoše a Podkrkonoší:

O čem se píše?

A)

Jedinečný barokní komplex založený F. A. Šporkem, jehož stavba byla zahájena r. 1692 (G. B. Alliprandi). Nejprve byla vybudována lázeňská budova při léčivých pramenech, roku 1695 byly již lázně v provozu. Na druhém břehu Labe postaven

špitál s kostelem Nejsvětější Trojice a kryptou. Autorem plastické výzdoby před kostelem je M. B. Braun.

B)


Pro skoky na lyžích je jako jediné v České republice a málokteré středisko ve světě vybaveno kompletní sestavou osmi skokanských můstků. Od nejmenšího s 8metrovým kritickým bodem, až po mamutí můstek K185, umožňující lety do vzdálenosti přes 200 metru, pro opravdové vrcholové sportovce a odvážlivce.

C)

Nejstarší část obce Svatý Petr je připomínána už v 16. století v souvislosti s dolováním rud na úbočích Kozích hřbetů a Stohu, podobně jako Labská (dříve Krausovy Boudy), kde se usadili dřevaři z alpských zemí pověřeni horním hejtmanem Kryštofem z Gendorfu těžbou a dopravou dřeva pro vrchlabské panství.

16. Úkol na turistický region Český ráj:

Najdi 10 rozdílů:



Jaký je název hradu na ilustraci?

17. Úkol na turistický region Královéhradecko



Kde se nachází tato socha?

- a) Pevnost Dobrošov
- b) Dobruška
- c) Babiččino údolí

Vytvořte správné dvojice:

- | | |
|------------------------------|-----------------------|
| 1. Josefův | a) skalní město |
| 2. Opočno | b) betlém |
| 3. Deštné v Orlických horách | c) vodní nádrž |
| 4. Rozkoš
středisko | d) lyžařské |
| 5. Třebechovice pod Orebem | e) pevnost |
| 6. Dobrošov | f) F. L. Věk |
| 7. Dobruška | g) zámek |
| 8. Ratibořice | e) vévodkyně Záhaňská |
| 9. Adršpašsko-teplické skály | f) vojenské opevnění |

8. Úkoly na turistický region Východní Čechy:

O čem se píše

A)

Hrad, který se nachází nedaleko Pardubic, se tyčí do výše 305 m. n. m. V jeho útrokách si můžete projít podzemní bludiště. Vysloužil si přezdívku „Kuňka“.

B)

Město na východě Čech v Pardubickém kraji. Každoročně se zde konají hudební slavnosti. Je to rodné město Bedřicha Smetany.

C)

Obec, která je známá především Národním hřebčínem. V areálu hřebčína se nachází zámek, kostel svatého Václava a Leopolda a také myslivna. Nachází se v okrese Pardubice.

Vytvořte správné dvojice:

- | | |
|-----------------|-------------|
| 1. Lázně | a) hora |
| 2. Emil Holub z | b) Litomyšl |
| 3. Smetanova | c) hřebčín |
| 4. Kunětická | d) perník |
| 5. Kladrubský | e) hory |
| 6. Pardubický | f) Holic |
| 7. Železné | g) Bohdaneč |

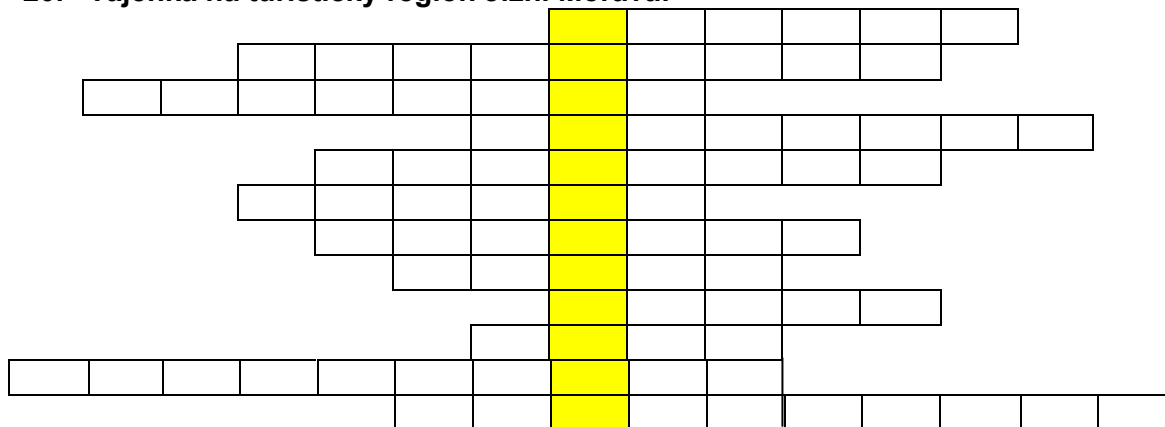
19. Úkol na turistický region Vysočina:

Na obrázcích jsou tři místa z Vysočiny, která jsou na Seznamu světového kulturního a přírodního dědictví UNESCO. Přiřaďte správně jejich popisky

1. Město Telč
2. Poutní kostel sv. Jana Nepomuckého na Zelené hoře u Žďáru nad Sázavou
3. Bazilika sv. Prokopa a židovská čtvrť v Třebíči

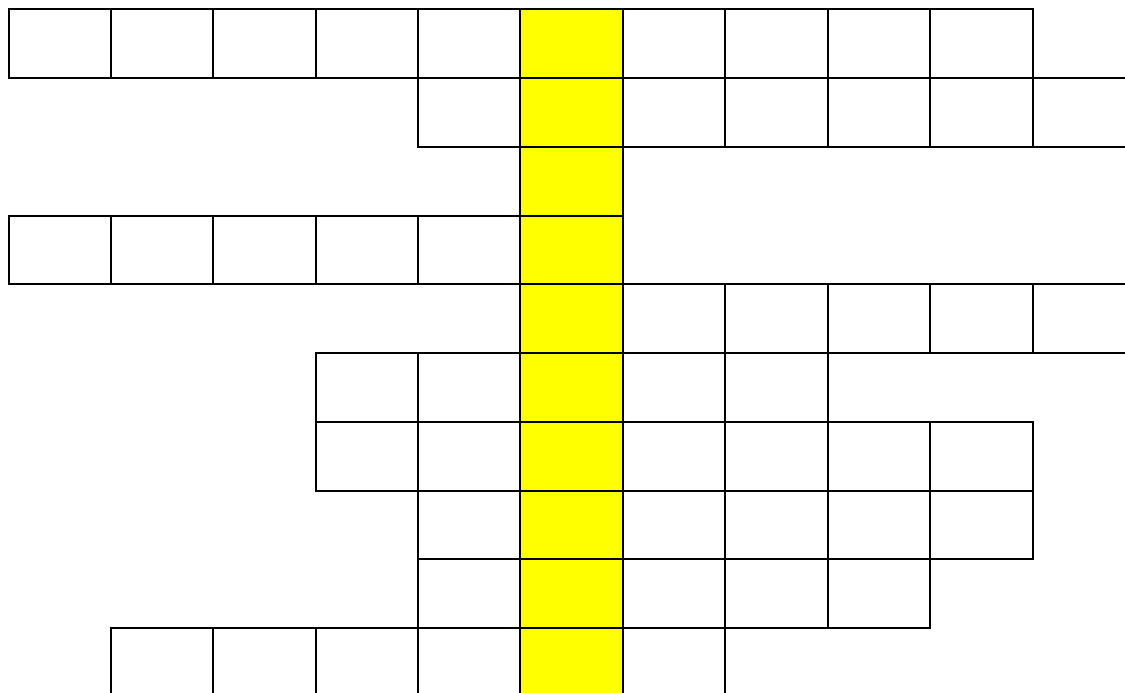


20. Tajenka na turistický region Jižní Morava:



1. Známa propast Moravského krasu
2. Přehrada na řece Dyji
3. Brněnský hrad
4. Doplňte: Lednicko ... areál
5. Bitva tří císařů byla bitva u ...
6. Pálava je chráněná krajinná ...
7. Doplňte: Punkevní, Kateřínské, Sloupsko- Šošůvské
8. Vodní nádrž Nové
9. Technická památka na Slovácku – Baťův...
10. Doplňte: Uherský...
11. Brněnská vila zapsaná na Seznam UNESCO?
12. Venuše z Jižní Moravy

21. Tajenka na turistický region Východní Morava:



1. Vizovické slavnosti.
2. Kromě zámku jsou v Kroměříži na Seznamu UNESCO....
3. V Uherském Hradišti je mnoho zachovalých vinných ...
4. U kterého většího města se nachází lyžařské středisko Razula?
5. Významný vsetínský sport nedávné doby.
6. Muzeum v přírodě.
7. Název organizace, která sepisuje světové kulturní a přírodní dědictví.
8. Luhačovice.
9. Valašské koláče.

22. Úkol na turistický region Střední Morava a Jeseníky:

Doplňte správná slova:

1. Javoříčské a Mladečské.....
2. Právě loštické (olomoucké)
3. Praděd je nejvyšší hora.....
4. Sloup Nejsvětější
5. Státní Bouzov
6. aragonitové jeskyně
7. Svatý kopeček u
8. Nejhlubší propast České republiky
9. Lázně Priessnitz v
10. jezírko na Rejvízu
11. Velkolosinská výroba papíru
12. Přečerpávací vodní elektrárna stráně

Vyberte název hradu, který je na obrázku:

- a) Šterberk, b) Helfštýn, c) Bouzov



23. Úkoly na turistický region Severní Morava a Slezsko:

O čem se píše

A)

Původní královský přemyslovský hrad byl několikrát přestavován, dnešní podobu získal na konci 19. století, kdy byl upraven ve stylu romantické tudorské gotiky a doplněn mimo jiné o Bílou věž, Červený zámek a dekorativní hradební zdi. V zámku je kromě přepychového zařízení a sochařské galerie umístěn Památník L. van Beethovena a F. Liszta, kteří zámek navštěvovali v době, kdy byl významným kulturním centrem.

B)

Horské lázně, založené roku 1785, leží v nadmořské výšce 800 metrů na východní straně Pradědu. Tradice říká, že je zde nejčistší vzduch ve střední Evropě. Zvláštní ráz lázním propůjčují sto až dvě stě let staré budovy, postavené v klasickém horském stylu.

Vyškrtejte celkem 10 slov, které mají něco společného s regionem Severní Morava a Slezsko. Tajenku tvoří nevyškrtná písmena.

O	P	A	V	S	K	O	N
S	T	O	D	O	L	N	Í
T	A	C	Ě	E	S	T	N
R	R	O	D	O	L	Y	U
A	D	V	A	N	Í	Z	K
V	O	K	R	A	D	O	R
A	U	S	P	Á	L	O	V
B	E	S	K	Y	D	Y	CH